

ZÁVĚREM

Vyřeš tajenku

1 Doplň názvy všech vyobrazených biologických objektů a vybraná písmena označená čísla napiš do prázdných rámečků podle předepsaného pořadí.

--	--	--	--



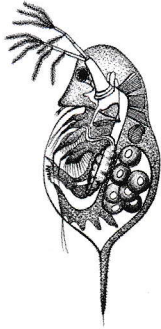
1 2 3 4

--	--	--	--

5 6 7 8

--	--	--	--	--	--	--	--	--	--	--	--	--	--

9 10 11 12 13 14 15 16 17 18



--	--	--	--	--	--	--	--	--	--	--	--

3

7

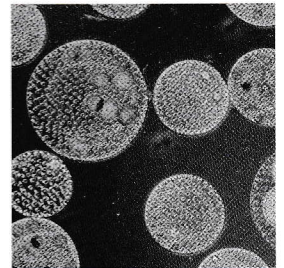


4

--	--	--	--

11 12

--	--	--	--	--	--	--	--	--

9



--	--	--	--	--	--	--	--	--	--	--

14

--	--	--	--	--	--	--	--	--

1

13

17


--	--	--	--	--

6



--	--	--	--	--	--	--	--

18




--	--	--	--	--	--

15 5 2



--	--	--	--

10 8



--	--	--	--	--	--	--	--

16