










1. Vyber jednotlivé charakteristiky a přiřaď, do jaké skupiny krytosemenných rostlin patří

A. kořen hlavní a vedlejší
B. svazčité kořeny
C. Semeno má jednu dělohu
D. síťnatá žilnatina
E. trojčetné květy
F. semeno má dvě dělohy
G. souběžná žilnatina
H. uspořádané cévní svazky do kruhu
I. pětičetné květy
J. neuspořádané cévní svazky

1. Jednoděložné	2. Dvouděložné
<input type="checkbox"/>	<input type="checkbox"/>
<input type="checkbox"/>	<input type="checkbox"/>
<input type="checkbox"/>	<input type="checkbox"/>
<input type="checkbox"/>	<input type="checkbox"/>

2. Zkus podle jednotlivých znaků odhadnout, zda je rostlina jednoděložná nebo dvouděložná

Zaměř se především na stavbu květu a žilnatinu listu, i pokud je to strom ti může napovědět

		
<b>Jabloň -</b>	<b>Konvalinka -</b>	<b>Blatouch -</b>
		
<b>Pomněnka -</b>	<b>Lípa</b>	<b>Kukuřice -</b>
		
<b>Vstavač -</b>	<b>Slunečnice -</b>	<b>Mochna -</b>










1. Vyber jednotlivé charakteristiky a přiřaď, do jaké skupiny krytosemenných rostlin patří

A. kořen hlavní a vedlejší
B. svazčité kořeny
C. Semeno má jednu dělohu
D. síťnatá žilnatina
E. trojčetné květy
F. semeno má dvě dělohy
G. souběžná žilnatina
H. uspořádané cévní svazky do kruhu
I. pětičetné květy
J. neuspořádané cévní svazky

1. Jednoděložné	2. Dvouděložné
B C E G J	A D F H I

2. Zkus podle jednotlivých znaků odhadnout, zda je rostlina jednoděložná nebo dvouděložná

Zaměř se především na stavbu květu a žilnatinu listu, i pokud je to strom ti může napovědět

		
<b>Jabloň - Dvouděložné</b>	<b>Konvalinka - Jednoděložná</b>	<b>Blatouch - Dvouděložné</b>
		
<b>Pomněnka - Dvouděložné</b>	<b>Lípa - Dvouděložné</b>	<b>Kukuřice - Jednoděložná</b>
		
<b>Vstavač - Jednoděložná</b>	<b>Slunečnice - Dvouděložné</b>	<b>Mochna - Dvouděložné</b>