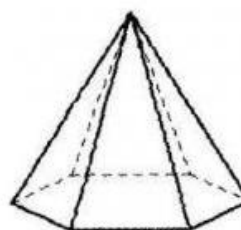
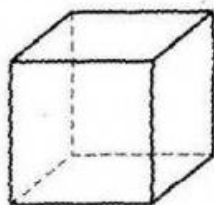
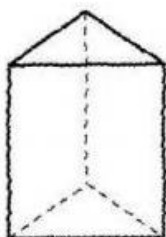





# Osmisměrka - opakování geometrických tvarů

Nejdříve pojmenujte jednotlivé geometrické tvary podle nákresu a poté vyhledejte v osmisměrce. V tajence vyjde drobná částice kulovitého tvaru ....., která ochromila celý svět.



O	Y	K	Ž	Ě	B	O	N	V	O	R
K	B	P	R	A	V	Ý	Ú	H	E	L
B	O	D	O	J	E	H	L	A	N	O
Č	T	V	E	R	E	C	R	O	L	N
R	N	A	E	L	CH	Y	R	K	E	A
D	K	R	U	Ž	N	I	C	E	Ž	R
Á	V	I	R	P	Ř	Í	M	K	U	H
V	E	C	I	M	L	O	K	U	K	S
K	Í	N	L	E	H	Ú	J	O	R	T