









Dorýsujte obrázek tak, aby vznikl obdélník o délkách stran 4 cm a 2 cm. Strany obdélníku popište malými písmeny.

<p>a)</p>  <p style="text-align: center;">obdélník <b>UVXY</b></p>	<p>b)</p>  <p style="text-align: center;">obdélník <b>OPRS</b></p>	<p>c)</p>  <p style="text-align: center;">obdélník <b>EFGH</b></p>
---	---	---



Dorýsujte obrázek tak, aby vznikl obdélník o délkách stran 5 cm a 2 cm. Strany obdélníku popište malými písmeny.

<p>a)</p>  <p style="text-align: center;">obdélník <b>ABCD</b></p>	<p>b)</p>  <p style="text-align: center;">obdélník <b>EFGH</b></p>	<p>c)</p>  <p style="text-align: center;">obdélník <b>IJKL</b></p>
--	--	---



Narýsujte obdélník **RSTU** tak, aby platilo  $|RS| = 8 \text{ cm}$  a  $|ST| = 6 \text{ cm}$ . Vyznačte bod **K**, který náleží obdélníku **RSTU**, a bod **L**, který obdélníku nenáleží.

Náčrtek:

