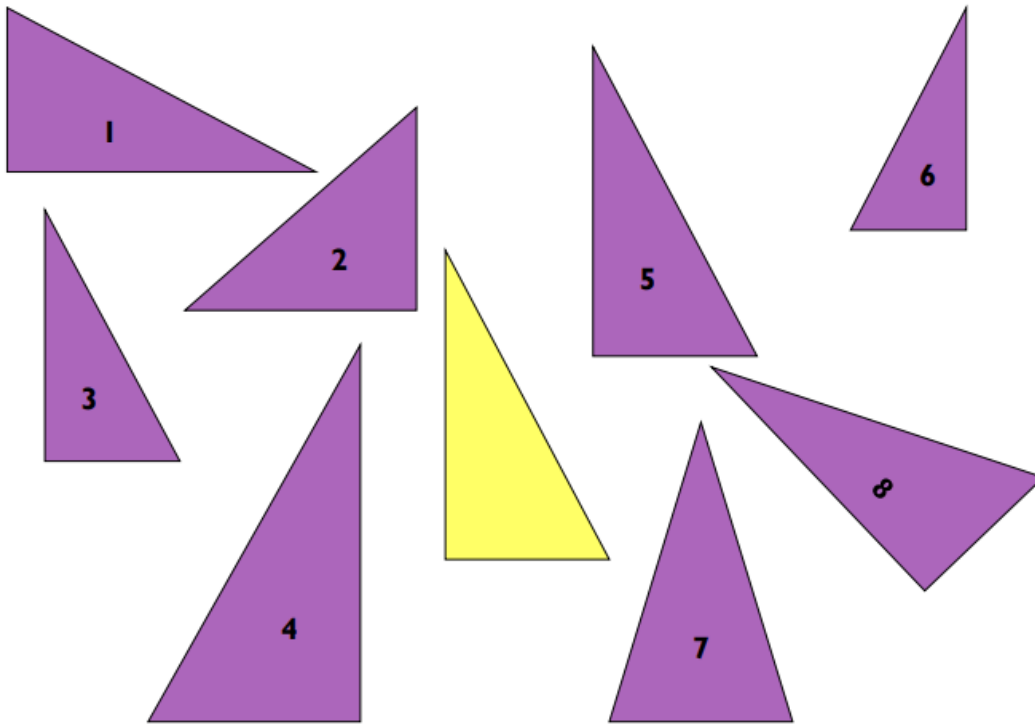


Pracovní list – shodnost geometrických tvarů, zapiš odpovědi do sešitu, pak si zkontroluj výsledky podle druhé strany

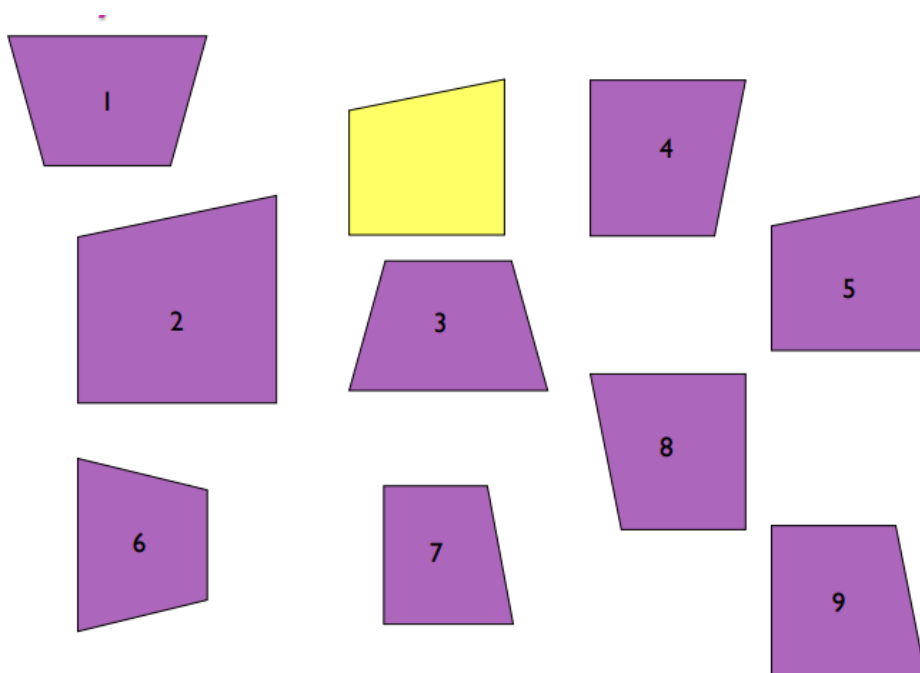
**1. Zakroužkuj, zda-li je výrok pravdivý:**

- |  |          |
|--|----------|
| Všechny přímky jsou shodné.                        | ANO - NE |
| Všechny čtverce jsou shodné.                       | ANO - NE |
| Všechny pravé úhly jsou shodné.                    | ANO - NE |
| Všechny kružnice se stejným poloměrem jsou shodné. | ANO - NE |
| Všechny polopřímky jsou shodné.                    | ANO - NE |
| Všechny úsečky jsou shodné.                        | ANO - NE |

**2. Napiš, který z trojúhelníků je shodný se žlutým trojúhelníkem**



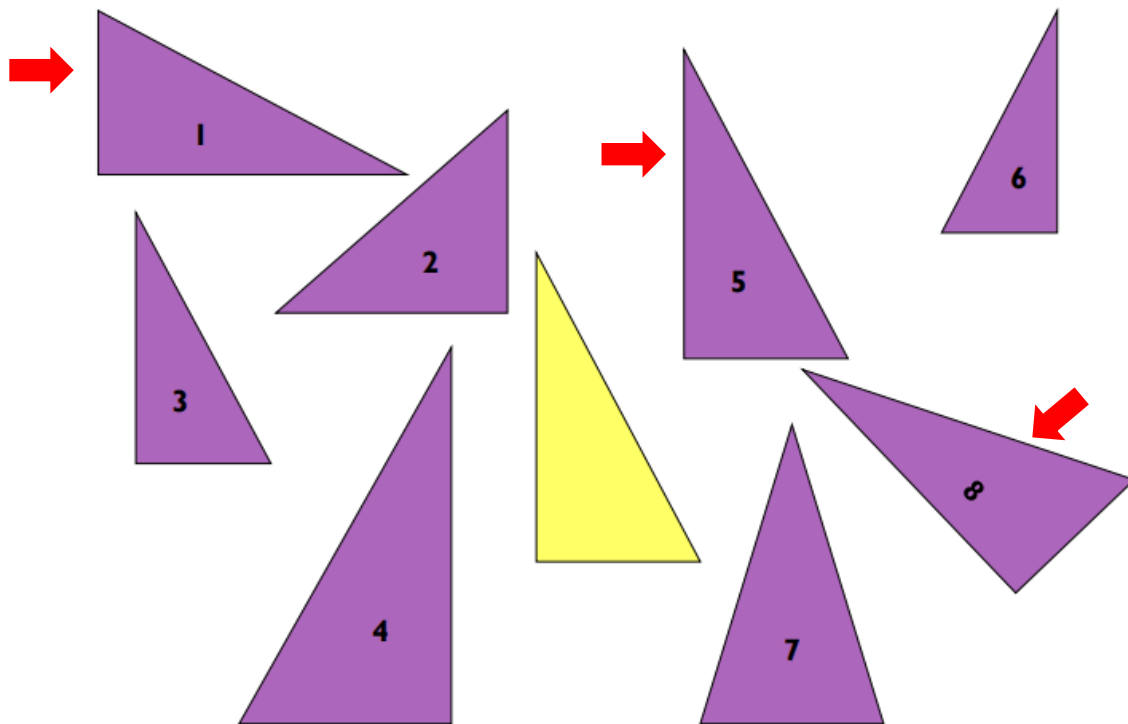
**3. Který z daných čtyřúhelníků je shodný se žlutým čtyřúhelníkem**



**2. Zakroužkuj, zda-li je výrok pravdivý:**

- |  |     |
|--|-----|
| Všechny přímky jsou shodné.                        | ANO |
| Všechny čtverce jsou shodné.                       | NE  |
| Všechny pravé úhly jsou shodné.                    | ANO |
| Všechny kružnice se stejným poloměrem jsou shodné. | ANO |
| Všechny polopřímky jsou shodné.                    | ANO |
| Všechny úsečky jsou shodné.                        | NE  |

**2. Napiš, který z trojúhelníků je shodný se žlutým trojúhelníkem**



**3. Který z daných čtyřúhelníků je shodný se žlutým čtyřúhelníkem**

